





ВВП.3. Основы навигации и радиосвязи в районе плавания

№	Вопрос	Иллюстрация
ВВП.3.1	Какой вид радиосвязи на ВВП является основным?	 An aerial photograph showing a wide river with a large concrete bridge spanning across it. A boat is visible on the water in the foreground, leaving a white wake. The sky is overcast.
ВВП.3.2	На каком из указанных УКВ каналов должно вестись постоянное наблюдение?	 A close-up photograph of a black VHF radio with a microphone and a digital display showing the number 15. The radio is resting on a surface with a blurred background of a river and bridge.
ВВП.3.3	На каком из указанных УКВ каналов передаются радиотелефонные сигналы срочности?	 A close-up photograph of a black VHF radio with a microphone and a digital display showing the number 15. The radio is resting on a surface with a blurred background of a river and bridge.
ВВП.3.4	На каком из указанных УКВ каналов передаются радиотелефонные сигналы безопасности?	 A close-up photograph of a black VHF radio with a microphone and a digital display showing the number 15. The radio is resting on a surface with a blurred background of a river and bridge.

ВВП.3.5	На каком из указанных УКВ каналов ведется радиообмен при бедствии?	
ВВП.3.6	На каком из указанных УКВ каналов передаются радиотелефонные сигналы бедствия?	
ВВП.3.7	На каком из указанных каналов осуществляется радиотелефонная связь с диспетчером шлюза?	
ВВП.3.8	В каком случае необходимо передать сигнал бедствия?	





ВВП.3.9	Какое сообщение предваряется сигналом срочности?	
ВВП.3.10	Какое сообщение предваряется сигналом безопасности?	
ВВП.3.11	В каком случае категорически запрещается передача сигналов бедствия, срочности и безопасности?	
ВВП.3.12	Выберите правильный формат вызова при бедствии, передаваемого по радиотелефону.	





ВВП.3.13	<p>Что следует предпринять, если радиостанция судна, терпящего бедствие, не получит ответ на вызов и сообщение о бедствии на 5 канале УКВ?</p>	
ВВП.3.14	<p>До каких пор следует повторять вызов и сообщение о бедствии?</p>	
ВВП.3.15	<p>Какая команда применяется для прекращения передач, мешающих аварийному радиотелефонному обмену?</p>	
ВВП.3.16	<p>Какая фраза передается в сообщении, передаваемом по окончании радиообмена в случае бедствия?</p>	





<p>ВВП.3.17</p>	<p>Над каким сигналом НЕ имеет приоритет сигнал СРОЧНОСТИ?</p>	
<p>ВВП.3.18</p>	<p>В течение какого времени радиостанции, принявшие сигнал срочности, должны продолжать наблюдение за этой передачей?</p>	
<p>ВВП.3.19</p>	<p>Каким сигналом предваряется сообщение о важных гидрометеорологических предупреждениях, изменениях навигационной и путевой обстановки?</p>	
<p>ВВП.3.20</p>	<p>Когда береговой радиостанцией передаются предупреждения о штормах?</p>	

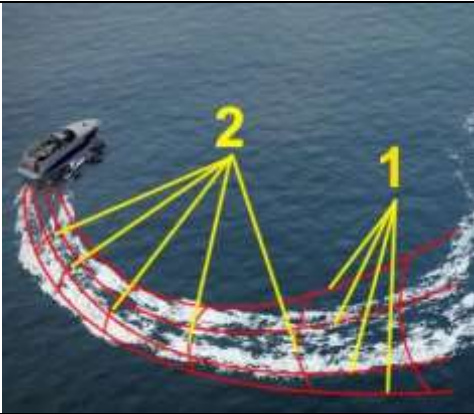
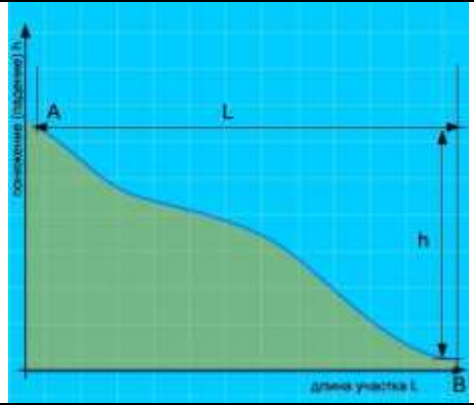


<p>ВВП.3.21</p>	<p>Как часто необходимо сверять показания часов с сигналами точного времени?</p>	
<p>ВВП.3.22</p>	<p>Какое время принято на внутренних водных путях Российской Федерации?</p>	
<p>ВВП.3.23</p>	<p>Что необходимо сделать судоводителю перед радиотелефонным вызовом?</p>	
<p>ВВП.3.24</p>	<p>Что необходимо предпринять судоводителю при осуществлении вызова в случае плохого прохождения связи или неразборчивости?</p>	




<p>ВВП.3.25</p>	<p>Через какое время может быть повторен вызов после безрезультатной попытки установления связи?</p>	
<p>ВВП.3.26</p>	<p>Что следует предпринять судоводителю, если был принят вызов, но нет уверенности, что этот вызов предназначен радиостанции его судна?</p>	
<p>ВВП.3.27</p>	<p>Какой служебной фразой при ведении радиотелефонного обмена оценивается качество радиосвязи?</p>	
<p>ВВП.3.28</p>	<p>Какие документы должны находиться на маломерном судне, оборудованном УКВ радиостанцией?</p>	

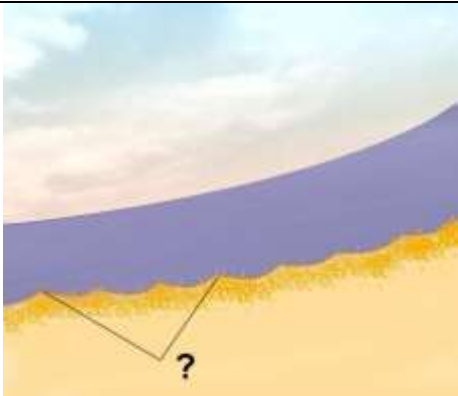



<p>ВВП.3.29</p>	<p>Как правильно передать слово «ДЕЛЬТА» при плохих условиях приема?</p>	
<p>ВВП.3.30</p>	<p>Что обязан сделать судоводитель маломерного судна при приеме сигнала бедствия?</p>	
<p>ВВП.3.31</p>	<p>При подходе к работающему на судовом ходу дноуглубительному или дноочистительному снаряду судно должно</p>	
<p>ВВП.3.32</p>	<p>При расхождении судно, идущее вверх, первым заблаговременно должно</p>	




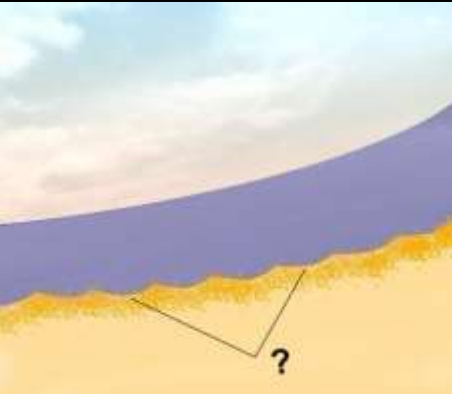
<p>ВВП.3.33</p>	<p>Укажите звуковой сигнал, который необходимо подать, если необходимо вызвать на радиосвязь другое судно</p>	
<p>ВВП.3.34</p>	<p>При движении по затруднительному и не просматриваемому участку судно должно</p>	
<p>ВВП.3.35</p>	<p>Как называется место начала реки?</p>	
<p>ВВП.3.36</p>	<p>Под каким номером на рисунке обозначен урез воды?</p>	





ВВП.3.37	Как называется невысокий обрывистый, как правило, вогнутый берег?	
ВВП.3.38	Как называется крутой и короткий изгиб русла в пределах долины реки?	
ВВП.3.39	Как называется длинный изгиб русла вместе с долиной реки?	
ВВП.3.40	Как называется столкновение струй двух водных потоков (слияние рукавов)?	





<p>ВВП.3.41</p>	<p>Как называются судовые волны, обозначенные на рисунке под номерами "1" и "2"?</p>	
<p>ВВП.3.42</p>	<p>Какая зависимость между продольным уклоном поверхности воды и скоростью течения воды в реке?</p>	
<p>ВВП.3.43</p>	<p>Как называется течение, которое создается у берега на участках, где слив воды направлен к берегу, и вызывает раскат судов в сторону берега?</p>	
<p>ВВП.3.44</p>	<p>Как называется вращательное движение воды в реке, возникающее, как правило, за выступами берегов, мысами, выпуклыми берегами, мостовыми опорами, дамбами?</p>	





<p>ВВП.3.45</p>	<p>Как называется неправильное течение, которое представляет собой слив воды, направленный под углом к судовому ходу, и возникающее из-за разности в уровнях воды по ширине реки?</p>	
<p>ВВП.3.46</p>	<p>Как называется неправильное (беспорядочное) вращательное течение в реке, вызываемое либо столкновением струй двух водных потоков (спорными водами), либо наличием на дне реки крупных предметов?</p>	
<p>ВВП.3.47</p>	<p>Какой из этих изгибов реки называется "лука"?</p>	
<p>ВВП.3.48</p>	<p>Как называется подводный глинистый выступ?</p>	





<p>ВВП.3.49</p>	<p>Как называется скопление наносов, отложенных в виде подводной гряды по ширине русла?</p>	
<p>ВВП.3.50</p>	<p>Как называется вращательное движение воды за подводным или надводным выступом?</p>	
<p>ВВП.3.51</p>	<p>Как называется наносное (без растительности) образование в русле, омываемое водой со всех сторон?</p>	
<p>ВВП.3.52</p>	<p>Как называется клиновидное отложение наносов, образованное у выпуклого берега и расположенное под углом к нему вниз по течению?</p>	

<p>ВВП.3.53</p>	<p>Как называется песчаная отмель – бугор в русле реки?</p>	
<p>ВВП.3.54</p>	<p>Как называется одиночный камень больших размеров в русле реки?</p>	
<p>ВВП.3.55</p>	<p>Как называется небольшое обособленное скопление камней недалеко от берега?</p>	
<p>ВВП.3.56</p>	<p>Как называется глубоководный участок реки между двумя перекатами?</p>	

<p>ВВП.3.57</p>	<p>Как называется большое скопление камней в русле либо каменная коса?</p>	
<p>ВВП.3.58</p>	<p>Как называется часть речной долины, затапливаемая при половодье (1 и 2)?</p>	
<p>ВВП.3.59</p>	<p>Как называется старое русло, спрямленное новым руслом и изолированное от него?</p>	
<p>ВВП.3.60</p>	<p>Как называется часть реки, которая образовалась при разделении русла островом?</p>	


<p>ВВП.3.61</p>	<p>Как называется течение из главного русла, направляющееся в боковые протоки у их входов?</p>	
<p>ВВП.3.62</p>	<p>Как называется выработанное речным потоком ложе, по которому осуществляется сток воды при самых низких уровнях?</p>	
<p>ВВП.3.63</p>	<p>Как называется участок земной поверхности, ограничивающий долину реки с боков?</p>	
<p>ВВП.3.64</p>	<p>Как называется часть старого русла, соединенное с действующим?</p>	

<p>ВВП.3.65</p>	<p>Как называется условная линия, соединяющая на водной поверхности реки точки с наибольшей глубиной русла и максимальными скоростями течения?</p>	
<p>ВВП.3.66</p>	<p>Как называется водный поток, вливающийся в реку?</p>	
<p>ВВП.3.67</p>	<p>Как называется часть реки, образованная при разделении русла островом?</p>	
<p>ВВП.3.68</p>	<p>Как называется движение двух судов,двигающихся навстречу друг другу?</p>	

ВВП.3.69	Какие действия необходимо предпринять судоводителю маломерного судна при выходе на судоходный участок реки из протоки?	
ВВП.3.70	Выберите правильное определение термина «пеленг».	
ВВП.3.71	Как называется угол между северным направлением меридиана и диаметральной плоскостью судна по направлению его движения?	
ВВП.3.72	Выберите правильное определение термина «курсовой угол».	

ВВП.3.73	Для чего из перечисленного ниже используется магнитный компас?	?
ВВП.3.74	Как называется угловая разница между направлением на истинный север и направлением на магнитный север?	?
ВВП.3.75	Как называется отклонение стрелки компаса от магнитного севера под влиянием внешних магнитных полей?	?
ВВП.3.76	Как называется направление на географический северный полюс?	?

ВВП.3.77	Как называется угол между диаметральной плоскостью судна и направлением на истинный север?	?
ВВП.3.78	Как называется угол между диаметральной плоскостью судна и направлением на магнитный север?	?
ВВП.3.79	Как называется отклонение движущегося судна от курса под влиянием ветра?	?
ВВП.3.80	Как называется отклонение движущегося судна от курса под влиянием течения?	?

ВВП.3.81	Как называется местоположение судна, полученное путем обработки результатов визуальных наблюдений различных ориентиров, положение которых известно?	
ВВП.3.82	Пеленг на какой из объектов необходимо взять в последнюю очередь при определении места судна?	