





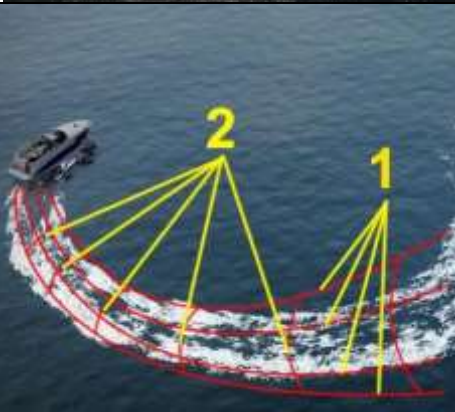
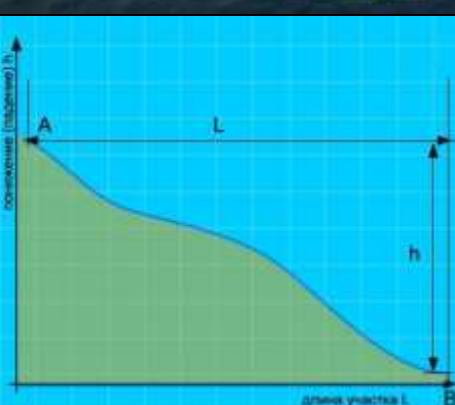






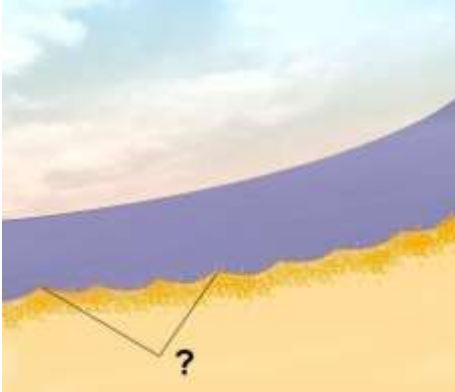








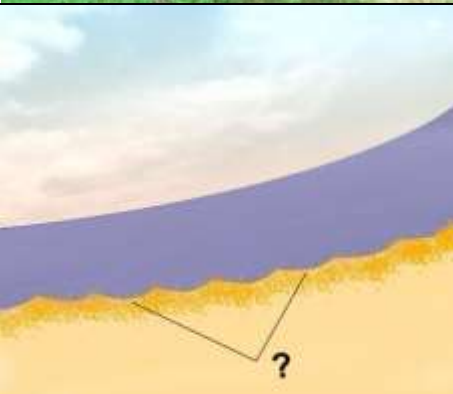

## ВП.2. Основы навигации и радиосвязи в районе плавания






№	Вопрос	Иллюстрация
ВП.2.1	Как называется место начала реки?	
ВП.2.2	Под каким номером на рисунке обозначен урез воды?	
ВП.2.3	Как называется невысокий обрывистый, как правило, вогнутый берег?	
ВП.2.4	Как называется крутой и короткий изгиб русла в пределах долины реки?	






<p>ВП.2.5</p>	<p>Как называется длинный изгиб русла вместе с долиной реки?</p>	
<p>ВП.2.6</p>	<p>Как называется столкновение струй двух водных потоков (слияние рукавов)?</p>	
<p>ВП.2.7</p>	<p>Как называются судовые волны, обозначенные на рисунке под номерами "1" и "2"?</p>	
<p>ВП.2.8</p>	<p>Какая зависимость между продольным уклоном поверхности воды и скоростью течения воды в реке?</p>	

<p>ВП.2.9</p>	<p>Как называется течение, которое создается у берега на участках, где слив воды направлен к берегу, и вызывает раскат судов в сторону берега?</p>	
<p>ВП.2.10</p>	<p>Как называется вращательное движение воды в реке, возникающее, как правило, за выступами берегов, мысами, выпуклыми берегами, мостовыми опорами, дамбами?</p>	
<p>ВП.2.11</p>	<p>Как называется неправильное течение, которое представляет собой слив воды, направленный под углом к судовому ходу, и возникающее из-за разности в уровнях воды по ширине реки?</p>	
<p>ВП.2.12</p>	<p>Как называется неправильное (беспорядочное) вращательное течение в реке, вызываемое либо столкновением струй двух водных потоков (спорными водами), либо наличием на дне реки крупных предметов?</p>	
<p>ВП.2.13</p>	<p>Какой из этих изгибов реки называется "лука"?</p>	

<p>ВП.2.14</p>	<p>Как называется подводный глинистый выступ?</p>	
<p>ВП.2.15</p>	<p>Как называется скопление наносов, отложенных в виде подводной гряды по ширине русла?</p>	
<p>ВП.2.16</p>	<p>Как называется вращательное движение воды за подводным или надводным выступом?</p>	
<p>ВП.2.17</p>	<p>Как называется наносное (без растительности) образование в русле, омываемое водой со всех сторон?</p>	
<p>ВП.2.18</p>	<p>Как называется клиновидное отложение наносов, образованное у выпуклого берега и расположенное под углом к нему вниз по течению?</p>	

<p>ВП.2.19</p>	<p>Как называется песчаная отмель – бугор в русле реки?</p>	
<p>ВП.2.20</p>	<p>Как называется одиночный камень больших размеров в русле реки?</p>	
<p>ВП.2.21</p>	<p>Как называется небольшое обособленное скопление камней недалеко от берега?</p>	
<p>ВП.2.22</p>	<p>Как называется глубоководный участок реки между двумя перекатами?</p>	
<p>ВП.2.23</p>	<p>Как называется большое скопление камней в русле либо каменная коса?</p>	

<p>ВП.2.24</p>	<p>Как называется часть речной долины, затопляемая при половодье (1 и 2)?</p>	
<p>ВП.2.25</p>	<p>Как называется старое русло, спрямленное новым руслом и изолированное от него?</p>	
<p>ВП.2.26</p>	<p>Как называется часть реки, которая образовалась при разделении русла островом?</p>	
<p>ВП.2.27</p>	<p>Как называется течение из главного русла, направляющееся в боковые протоки у их входов?</p>	
<p>ВП.2.28</p>	<p>Как называется выработанное речным потоком ложе, по которому осуществляется сток воды при самых низких уровнях?</p>	


<p>ВП.2.29</p>	<p>Как называется участок земной поверхности, ограничивающий долину реки с боков?</p>	
<p>ВП.2.30</p>	<p>Как называется часть старого русла, соединенное с действующим?</p>	
<p>ВП.2.31</p>	<p>Как называется условная линия, соединяющая на водной поверхности реки точки с наибольшей глубиной русла и максимальными скоростями течения?</p>	
<p>ВП.2.32</p>	<p>Как называется водный поток, вливающийся в реку?</p>	
<p>ВП.2.33</p>	<p>Как называется часть реки, образованная при разделении русла островом?</p>	

ВП.2.34	Как называется движение двух судов, двигающихся навстречу друг другу?	
ВП.2.35	Выберите правильное определение термина «пеленг»	
ВП.2.36	Как называется угол между северным направлением меридиана и диаметральной плоскостью судна по направлению его движения?	
ВП.2.37	Выберите правильное определение термина «курсовой угол»	



ВП.2.38	Для чего из перечисленного ниже используется магнитный компас?	?
ВП.2.39	Как называется угловая разница между направлением на истинный север и направлением на магнитный север?	?
ВП.2.40	Как называется отклонение стрелки компаса от магнитного севера под влиянием внешних магнитных полей?	?
ВП.2.41	Как называется направление на географический северный полюс?	?

ВП.2.42	Как называется угол между диаметральной плоскостью судна и направлением на истинный север?	?
ВП.2.43	Как называется угол между диаметральной плоскостью судна и направлением на магнитный север?	?
ВП.2.44	Как называется отклонение движущегося судна от курса под влиянием ветра?	?
ВП.2.45	Как называется отклонение движущегося судна от курса под влиянием течения?	?

ВП.2.46	Как называется местоположение судна, полученное путем обработки результатов визуальных наблюдений различных ориентиров, положение которых известно?	
ВП.2.47	Пеленг на какой из объектов необходимо взять в последнюю очередь при определении места судна?	